

Согласовано председателем НМС ФГБНУ «ФИПИ» по КИМ
для участников ГИА с инвалидностью, ограниченными возможностями здоровья
(протокол НМС № 1 от 10.11.2025 г.)
Утверждено приказом ФГБНУ «ФИПИ» № 367-П от 14.11.2025 г.

СПЕЦИФИКАЦИЯ
экзаменационных материалов для проведения в 2026 году
государственного выпускного экзамена по образовательным
программам среднего общего образования (письменная форма)
по МАТЕМАТИКЕ

1. Назначение экзаменационной работы

Государственный выпускной экзамен (ГВЭ) представляет собой форму государственной итоговой аттестации по образовательным программам среднего общего образования, проводимой в целях определения соответствия результатов освоения обучающимися образовательных программ среднего общего образования соответствующим требованиям федерального государственного образовательного стандарта. ГВЭ проводится для обучающихся в специальных учебно-воспитательных учреждениях закрытого типа, а также в учреждениях, исполняющих наказание в виде лишения свободы, для обучающихся по образовательным программам среднего профессионального образования, получающих среднее общее образование по имеющим государственную аккредитацию образовательным программам среднего общего образования, в том числе по образовательным программам среднего профессионального образования, интегрированным с образовательными программами основного общего и среднего общего образования, для обучающихся, экстернов с ограниченными возможностями здоровья, для обучающихся, экстернов – детей-инвалидов и инвалидов, осваивающих образовательные программы среднего общего образования.

ГВЭ проводится в соответствии с Федеральным законом от 29.12.2012 № 273-ФЗ «Об образовании в Российской Федерации» и Порядком проведения государственной итоговой аттестации по образовательным программам среднего общего образования, утверждённым приказом Минпросвещения России и Рособнадзора от 04.04.2023 № 233/552 (зарегистрирован Минюстом России 15.05.2023 № 73314).

2. Документы, определяющие содержание экзаменационной работы

Содержание экзаменационных материалов ГВЭ-11 определяется на основе федерального государственного образовательного стандарта среднего общего образования (далее – ФГОС) (приказ Министерства просвещения Российской Федерации от 12.08.2022 № 732 «О внесении изменений в федеральный государственный образовательный стандарт среднего общего образования, утверждённый приказом Министерства образования и науки Российской Федерации от 17.05.2012 № 413»).

Детализированные требования к результатам освоения основной образовательной программы среднего общего образования, проверяемые на

основе изменённого в 2022 г. ФГОС, являются преемственными по отношению к требованиям ФГОС 2012 г.

При разработке экзаменационных материалов ГВЭ-11 учитывается содержание федеральной образовательной программы среднего общего образования (приказ Министерства просвещения Российской Федерации от 18.05.2023 № 371 «Об утверждении федеральной образовательной программы среднего общего образования» (с изменениями)).

3. Общие подходы к отбору содержания, разработке структуры экзаменационной работы

При разработке структуры и отборе содержания экзаменационной работы реализованы системно-деятельностный, уровневый и комплексный подходы к оценке образовательных достижений обучающихся.

Личностные результаты освоения обучающимися основной образовательной программы отражают готовность и способность обучающихся руководствоваться сформированной внутренней позицией личности, системой ценностных ориентаций, позитивных внутренних убеждений, соответствующих традиционным ценностям российского общества, расширение жизненного опыта и опыта деятельности в процессе реализации основных направлений воспитательной деятельности. Содержание и результаты выполнения заданий ГВЭ связаны в том числе с достижением личностных результатов освоения основной образовательной программы в части физического, трудового, экологического воспитания, а также принятия ценности научного познания.

Включённые в экзаменационную работу задания выявляют достижение метапредметных и предметных результатов освоения основной образовательной программы среднего общего образования. При выполнении заданий, помимо предметных знаний, умений, навыков и способов познавательной деятельности, востребованы также универсальные учебные познавательные, коммуникативные и регулятивные (самоорганизация и самоконтроль) действия.

Для глухих, слабослышащих, позднооглохших, имеющих кохлеарные импланты участников экзамена с учётом их образовательных потребностей адаптированы текстовые части задач, что подразумевает упрощение конструкций по грамматическому и семантическому оформлению, использование преимущественно общеупотребительной лексики.

4. Виды экзаменационной работы ГВЭ-11

Письменный экзамен ГВЭ-11 по математике проводится в нескольких форматах в целях учёта возможностей разных категорий его участников: участников без ОВЗ и участников с ОВЗ.

Экзаменационные материалы с 100-ми номерами вариантов – для участников ГВЭ-11 без ОВЗ и с ОВЗ: глухих, слабослышащих, позднооглохших, имеющих кохлеарные имплантаты экзаменуемых; с нарушениями опорно-двигательного аппарата; с расстройствами

аутистического спектра; иных категорий участников ГВЭ, которым требуется создание специальных условий (с диабетом, онкологическими заболеваниями, астмой и др.), обучающихся по адаптированным основным образовательным программам.

Экзаменационные материалы с 200-ми номерами вариантов – для слепых, слабовидящих и поздноослепших обучающихся. Для слепых обучающихся задания переводятся на рельефно-точечный шрифт Брайля. Экзаменационные материалы аналогичны материалам с 100-ми номерами вариантов, но в текстах заданий сведены к минимуму визуальные образы.

5. Структура и содержание экзаменационной работы

Каждый вариант экзаменационной работы содержит 14 заданий с кратким ответом базового уровня сложности. Все задания направлены на проверку освоения базовых умений и практических навыков применения математических знаний в повседневных ситуациях.

Ответом к каждому из заданий 1–14 является целое число, или конечная десятичная дробь, или последовательность цифр.

В таблице 1 приведено распределение заданий по разделам проверяемых элементов содержания.

Таблица 1

Распределение заданий по разделам проверяемых элементов содержания

Содержательные разделы	Количество заданий
Числа и вычисления	3–4
Уравнения и неравенства	3–4
Функции и графики	1–2
Начала математического анализа	1
Множества и логика	1
Вероятность и статистика	1–2
Геометрия	4

В таблице 2 приведено распределение заданий по видам умений и способам действий. Некоторые задания проверяют освоение нескольких видов умений и способов действий.

Таблица 2

Распределение заданий по видам умений и способам действий

Основные умения и способы действий	Количество заданий
Умение оценивать логическую правильность рассуждений; умение оперировать понятиями: множество, подмножество, операции над множествами; умение использовать теоретико-множественный аппарат для описания реальных процессов и явлений и при решении задач, в том числе из других учебных предметов; умение оперировать понятиями: граф, связный граф, дерево, цикл, граф на плоскости; умение задавать и опи-	1

Основные умения и способы действий	Количество заданий
сывать графы различными способами; использовать графы при решении задач	
Умение оперировать понятиями: натуральное число, целое число, степень с целым показателем, корень натуральной степени, степень с рациональным показателем, степень с действительным показателем, логарифм числа, синус, косинус и тангенс произвольного числа; умение выполнять вычисление значений и преобразования выражений со степенями и логарифмами, преобразования дробно-рациональных выражений	5
Умение оперировать понятиями: рациональные, иррациональные, показательные, степенные, логарифмические, тригонометрические уравнения и неравенства, их системы; умение решать уравнения, неравенства и системы с помощью различных приёмов	2
Умение оперировать понятиями: функция, ограниченность функции, монотонность функции, экстремум функции, наибольшее и наименьшее значения функции на промежутке, геометрический и физический смысл производной	1
Умение оперировать понятием: график функции; умение использовать графики для изучения процессов и зависимостей, при решении задач из других учебных предметов и задач из реальной жизни	2
Умение решать текстовые задачи разных типов (в том числе на проценты, доли и части, на движение, работу, стоимость товаров и услуг, налоги, задачи из области управления личными и семейными финансами); составлять выражения, уравнения, неравенства и их системы по условию задачи, исследовать полученное решение и оценивать правдоподобность результатов; умение моделировать реальные ситуации на языке математики; составлять выражения, уравнения, неравенства и их системы по условию задачи, исследовать построенные модели с использованием аппарата алгебры, интерпретировать полученный результат	3
Умение извлекать, интерпретировать информацию, представленную в таблицах, на диаграммах, графиках, отражающую свойства реальных процессов и явлений	1
Умение оперировать понятиями: случайный опыт и случайное событие, вероятность случайного события; умение вычислять вероятность с использованием графических методов; применять формулы сложения и умножения вероятностей, формулу полной вероятности; оценивать вероятности реальных событий	1

Умение оперировать понятиями: точка, прямая, плоскость, пространство, отрезок, луч, величина угла, плоский угол, двугранный угол, трёхгранный угол, скрещивающиеся прямые, параллельность и перпендикулярность прямых и плоскостей, угол между прямыми, угол между прямой и плоскостью, угол между плоскостями, расстояние от точки до плоскости, расстояние между прямыми, расстояние между плоскостями; умение использовать при решении задач изученные факты и теоремы планиметрии	2
Умение оперировать понятиями: площадь фигуры, объём фигуры, многогранник, правильный многогранник, сечение многогранника, куб, параллелепипед, призма, пирамида, фигура и поверхность вращения, цилиндр, конус, шар, сфера, площадь сферы, площадь поверхности пирамиды, призмы, конуса, цилиндра, объём куба, прямоугольного параллелепипеда, пирамиды, призмы, цилиндра, конуса, шара, сечения конуса и цилиндра, параллельные оси или основанию, сечение шара	4
Умение вычислять геометрические величины (длина, угол, площадь, объём, площадь поверхности), используя изученные формулы и методы, в том числе: площадь поверхности пирамиды, призмы, конуса, цилиндра, площадь сферы, объём куба, прямоугольного параллелепипеда, пирамиды, призмы, цилиндра, конуса, шара	2

6. Распределение заданий экзаменационной работы по уровню сложности

Все задания, содержащиеся в экзаменационной работе, относятся к базовому уровню сложности.

7. Продолжительность экзамена

Для выполнения экзаменационной работы по математике предоставляется 3 часа 55 минут (235 минут).

8. Дополнительные материалы и оборудование

Перечень дополнительных материалов и оборудования, использование которых разрешено при проведении ГВЭ-11, утверждается приказом Минпросвещения России и Рособрназора.

Разрешено использование участниками ГВЭ-11 линейки для построения чертежей и рисунков; справочных материалов, содержащих основные формулы курса математики образовательной программы основного общего и среднего общего образования.

9. Система оценивания выполнения отдельных заданий и экзаменационной работы в целом

Оценивание выполнения заданий КИМ (в том числе устных ответов участников ГВЭ-11) осуществляется предметными комиссиями¹ по соответствующим учебным предметам.

Правильный ответ на каждое из заданий 1–14 оценивается 1 баллом. Задание считается выполненным верно, если экзаменуемый дал правильный ответ в виде целого числа, или конечной десятичной дроби, или последовательности цифр.

Максимальный первичный балл за выполнение экзаменационной работы – 14.

Результатом экзамена является отметка, которая определяется путём перевода первичных баллов, полученных участником экзамена за выполнение всех заданий экзаменационной работы, в пятибалльную систему оценки с учётом шкалы перевода, приведенной в таблице 3.

*Таблица 3
Рекомендуемая шкала перевода первичных баллов в пятибалльную отметку*

Отметка по пятибалльной шкале	«2»	«3»	«4»	«5»
Диапазон первичных баллов	0–4	5–7	8–10	11–14

10. Изменения в экзаменационных материалах 2026 года в сравнении с 2025 годом

Изменения структуры и содержания экзаменационных материалов отсутствуют.

¹ В число экспертов, привлекаемых к оцениванию ответов экзаменуемых с нарушением слуха, рекомендуется включать учителя по соответствующему предмету с дополнительной квалификацией «учитель-дефектолог (сурдопедагог)».

Приложение

**Обобщённый план варианта экзаменационной работы
ГВЭ-11 (письменная форма) 2026 года
по МАТЕМАТИКЕ
(100-е и 200-е номера вариантов)**

№	Проверяемые требования к предметным результатам освоения основной образовательной программы	Максимальный балл за выполнение задания
1	Уметь оперировать понятиями: натуральное число, целое число, рациональное число. Уметь решать текстовые задачи разных типов (в том числе на проценты, доли и части, на движение, работу, стоимость товаров и услуг, налоги, задачи из области управления личными и семейными финансами)	1
2	Уметь оперировать понятиями: натуральное число, целое число, рациональное число. Уметь решать текстовые задачи разных типов (в том числе на проценты, доли и части, на движение, работу, стоимость товаров и услуг, налоги, задачи из области управления личными и семейными финансами)	1
3	Умение оперировать понятиями: рациональные, иррациональные, показательные, степенные, логарифмические, тригонометрические уравнения и неравенства, их системы. Умение решать уравнения, неравенства и системы с помощью различных приёмов	1
4	Умение оперировать понятиями: случайный опыт и случайное событие, вероятность случайного события; умение вычислять вероятность с использованием графических методов; применять формулы сложения и умножения вероятностей, формулу полной вероятности; оценивать вероятности реальных событий	1
5	Умение использовать графики для изучения процессов и зависимостей, при решении задач из других учебных предметов и задач из реальной жизни. Умение извлекать, интерпретировать информацию, представленную в таблицах, на диаграммах, графиках, отражающую свойства реальных процессов и явлений	1
6	Умение выполнять вычисление значений и преобразования выражений со степенями и логарифмами, преобразования дробно-рациональных выражений. Умение оперировать понятиями: рациональные, иррациональные, показательные, степенные, логарифмические, тригонометрические уравнения и неравенства, их системы	1
7	Умение использовать при решении задач изученные факты и теоремы планиметрии; умение оперировать понятием: площадь фигуры	1
8	Умение использовать при решении задач изученные факты и теоремы планиметрии; умение оперировать понятием: площадь фигуры	1
9	Умение оперировать понятиями: функция, ограниченность функции, монотонность функции, экстремум функции, наибольшее и наименьшее значения функции на промежутке, геометрический и физический смысл производной	1

№	Проверяемые требования к предметным результатам освоения основной образовательной программы	Максимальный балл за выполнение задания
10	Умение оперировать понятиями: натуральное число, целое число; умение решать текстовые задачи разных типов	1
11	Умение оперировать понятиями: натуральное число, целое число, степень с целым показателем, корень натуральной степени, степень с рациональным показателем, степень с действительным показателем, логарифм числа, синус, косинус и тангенс произвольного числа	1
12	Умение оценивать логическую правильность рассуждений; умение оперировать понятиями: множество, подмножество, операции над множествами; умение использовать теоретико-множественный аппарат для описания реальных процессов и явлений и при решении задач, в том числе из других учебных предметов; умение оперировать понятиями: граф, связный граф, дерево, цикл, граф на плоскости; умение задавать и описывать графы различными способами; использовать графы при решении задач	1
13	Умение оперировать понятиями: площадь фигуры, объём фигуры, многогранник, правильный многогранник, сечение многогранника, куб, параллелепипед, призма, пирамида, фигура и поверхность вращения, цилиндр, конус, шар, сфера, площадь сферы, площадь поверхности пирамиды, призмы, конуса, цилиндра, объём куба, прямоугольного параллелепипеда, пирамиды, призмы, цилиндра, конуса, шара, сечения конуса и цилиндра, параллельные оси или основанию, сечение шара; умение вычислять геометрические величины (длина, угол, площадь, объём, площадь поверхности), используя изученные формулы и методы, в том числе: площадь поверхности пирамиды, призмы, конуса, цилиндра, площадь сферы, объём куба, прямоугольного параллелепипеда, пирамиды, призмы, цилиндра, конуса, шара	1
14	Умение оперировать понятиями: площадь фигуры, объём фигуры, многогранник, правильный многогранник, сечение многогранника, куб, параллелепипед, призма, пирамида, фигура и поверхность вращения, цилиндр, конус, шар, сфера, площадь сферы, площадь поверхности пирамиды, призмы, конуса, цилиндра, объём куба, прямоугольного параллелепипеда, пирамиды, призмы, цилиндра, конуса, шара, сечения конуса и цилиндра, параллельные оси или основанию, сечение шара; умение вычислять геометрические величины (длина, угол, площадь, объём, площадь поверхности), используя изученные формулы и методы, в том числе: площадь поверхности пирамиды, призмы, конуса, цилиндра, площадь сферы, объём куба, прямоугольного параллелепипеда, пирамиды, призмы, цилиндра, конуса, шара	1

**Пояснения к образцу экзаменационного материала
ГВЭ-11 (письменная форма)
по МАТЕМАТИКЕ**

При ознакомлении с образцом экзаменационного материала ГВЭ-11 (письменная форма) следует иметь в виду, что в образце представлены конкретные примеры заданий, не исчерпывающие всего многообразия возможных формулировок заданий на каждой позиции варианта экзаменационной работы.

В образце представлено по несколько примеров заданий на некоторых позициях экзаменационной работы. В реальных вариантах экзаменационных материалов на каждой позиции будет предложено только одно задание.

Назначение образца экзаменационного материала заключается в том, чтобы дать возможность любому участнику ГВЭ составить представление о структуре будущих вариантов экзаменационных материалов, количестве заданий, об их форме и уровне сложности.

Эти сведения позволят выпускникам выработать стратегию подготовки к ГВЭ-11 по математике в 2026 г.

**Образец экзаменационного материала
ГВЭ-11 (письменная форма) 2026 года
по МАТЕМАТИКЕ
(100-е номера вариантов)**

Инструкция по выполнению работы

Экзаменационная работа включает в себя 14 заданий. На выполнение работы по математике отводится 3 часа 55 минут (235 минут).

Ответы к заданиям 1–14 запишите в поля ответов в работе, а затем перенесите в бланк ответов. Для этого в бланке ответов запишите номера всех заданий в столбец следующим образом:

- 1)
- 2)
- 3)
- ...
- 13)
- 14)

Ответы к заданиям 1–14 запишите в бланк ответов справа от номеров соответствующих заданий. В случае записи неверного ответа зачеркните его и запишите рядом новый.

При выполнении работы разрешается использовать линейку.

Бланк ответов заполняется яркими чёрными чернилами. Допускается использование гелевой или капиллярной ручки.

При выполнении заданий можно пользоваться черновиком. Записи в черновике не учитываются при оценивании работы.

Баллы, полученные Вами за выполненные задания, суммируются. Постарайтесь выполнить как можно больше заданий и набрать наибольшее количество баллов.

Желаем успеха!

Справочные материалы

Алгебра

Таблица квадратов целых чисел от 0 до 99

Десятки	Единицы									
	0	1	2	3	4	5	6	7	8	9
0	0	1	4	9	16	25	36	49	64	81
1	100	121	144	169	196	225	256	289	324	361
2	400	441	484	529	576	625	676	729	784	841
3	900	961	1024	1089	1156	1225	1296	1369	1444	1521
4	1600	1681	1764	1849	1936	2025	2116	2209	2304	2401
5	2500	2601	2704	2809	2916	3025	3136	3249	3364	3481
6	3600	3721	3844	3969	4096	4225	4356	4489	4624	4761
7	4900	5041	5184	5329	5476	5625	5776	5929	6084	6241
8	6400	6561	6724	6889	7056	7225	7396	7569	7744	7921
9	8100	8281	8464	8649	8836	9025	9216	9409	9604	9801

Свойства арифметического квадратного корня

$$\sqrt{ab} = \sqrt{a} \cdot \sqrt{b} \text{ при } a \geq 0, b \geq 0 \quad \sqrt{\frac{a}{b}} = \frac{\sqrt{a}}{\sqrt{b}} \text{ при } a \geq 0, b > 0$$

Корни квадратного уравнения $ax^2 + bx + c = 0$, $a \neq 0$

$$x_1 = \frac{-b - \sqrt{b^2 - 4ac}}{2a}, \quad x_2 = \frac{-b + \sqrt{b^2 - 4ac}}{2a} \text{ при } b^2 - 4ac > 0$$

$$x = -\frac{b}{2a} \text{ при } b^2 - 4ac = 0$$

Формулы сокращённого умножения

$$(a+b)^2 = a^2 + 2ab + b^2$$

$$(a-b)^2 = a^2 - 2ab + b^2$$

$$a^2 - b^2 = (a+b)(a-b)$$

Степень и логарифм

Свойства степени

при $a > 0$, $b > 0$

$$a^{-n} = \frac{1}{a^n}$$

$$a^n \cdot a^m = a^{n+m}$$

$$\frac{a^n}{a^m} = a^{n-m}$$

$$(a^n)^m = a^{nm}$$

$$(ab)^n = a^n \cdot b^n$$

$$\left(\frac{a}{b}\right)^n = \frac{a^n}{b^n}$$

Свойства логарифма

при $a > 0$, $a \neq 1$, $b > 0$, $x > 0$, $y > 0$

$$a^{\log_a b} = b$$

$$\log_a a = 1$$

$$\log_a 1 = 0$$

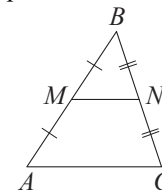
$$\log_a (xy) = \log_a x + \log_a y$$

$$\log_a \left(\frac{x}{y}\right) = \log_a x - \log_a y$$

$$\log_a b^k = k \log_a b$$

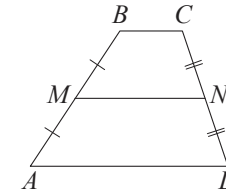
Геометрия

Средняя линия треугольника и трапеции

 MN — ср. лин.

$$MN \parallel AC$$

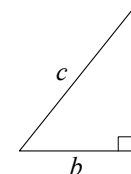
$$MN = \frac{AC}{2}$$

 $BC \parallel AD$ MN — ср. лин.

$$MN \parallel AD$$

$$MN = \frac{BC + AD}{2}$$

Теорема Пифагора



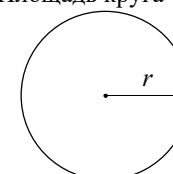
$$a^2 + b^2 = c^2$$

Длина окружности

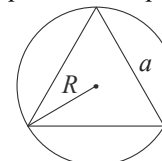
$$C = 2\pi r$$

Площадь круга

$$S = \pi r^2$$

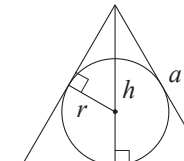


Правильный треугольник



$$R = \frac{a\sqrt{3}}{3}$$

$$S = \frac{a^2\sqrt{3}}{4}$$

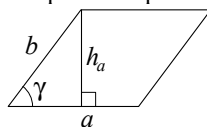


$$r = \frac{a\sqrt{3}}{6}$$

$$h = \frac{a\sqrt{3}}{2}$$

Площади фигур

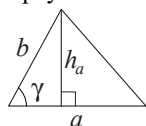
Параллелограмм



$$S = ah_a$$

$$S = ab \sin \gamma$$

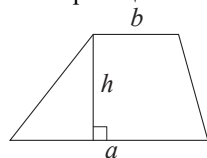
Треугольник



$$S = \frac{1}{2} ah_a$$

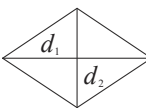
$$S = \frac{1}{2} ab \sin \gamma$$

Трапеция



$$S = \frac{a+b}{2} \cdot h$$

Ромб

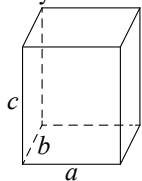


$$d_1, d_2 \text{ — диагонали}$$

$$S = \frac{1}{2} d_1 d_2$$

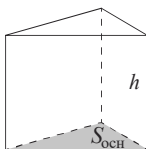
Площади поверхностей и объёмы тел

Прямоугольный параллелепипед



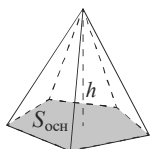
$$V = abc$$

Прямая призма



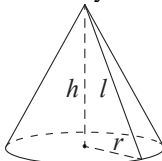
$$V = S_{\text{осн}} h$$

Пирамида



$$V = \frac{1}{3} S_{\text{осн}} h$$

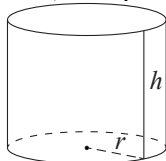
Конус



$$V = \frac{1}{3} \pi r^2 h$$

$$S_{\text{бок}} = \pi r l$$

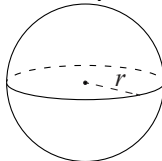
Цилиндр



$$V = \pi r^2 h$$

$$S_{\text{бок}} = 2\pi r h$$

Шар

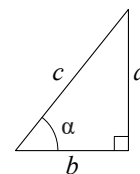


$$V = \frac{4}{3} \pi r^3$$

$$S_{\text{пов}} = 4\pi r^2$$

Тригонометрические функции

Прямоугольный треугольник

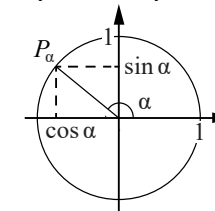


$$\sin \alpha = \frac{a}{c}$$

$$\cos \alpha = \frac{b}{c}$$

$$\operatorname{tg} \alpha = \frac{a}{b}$$

Тригонометрическая окружность



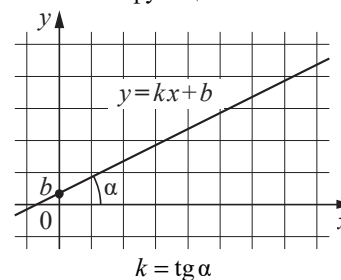
Основное тригонометрическое тождество: $\sin^2 \alpha + \cos^2 \alpha = 1$

Некоторые значения тригонометрических функций

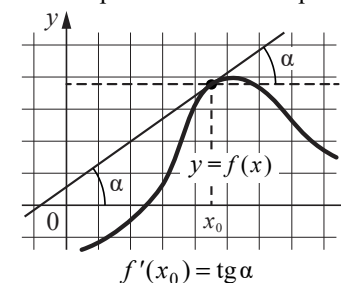
α	радианы	0	$\frac{\pi}{6}$	$\frac{\pi}{4}$	$\frac{\pi}{3}$	$\frac{\pi}{2}$	π	$\frac{3\pi}{2}$	2π
	градусы	0°	30°	45°	60°	90°	180°	270°	360°
$\sin \alpha$		0	$\frac{1}{2}$	$\frac{\sqrt{2}}{2}$	$\frac{\sqrt{3}}{2}$	1	0	-1	0
$\cos \alpha$		1	$\frac{\sqrt{3}}{2}$	$\frac{\sqrt{2}}{2}$	$\frac{1}{2}$	0	-1	0	1
$\operatorname{tg} \alpha$		0	$\frac{\sqrt{3}}{3}$	1	$\sqrt{3}$	—	0	—	0

Функции

Линейная функция



Геометрический смысл производной



Ответами к заданиям 1–14 являются целое число, конечная десятичная дробь или последовательность цифр. Запишите ответ в поле ответа в тексте работы, затем перенесите в БЛАНК ОТВЕТОВ справа от номера соответствующего задания. Единицы измерений писать не нужно.

- 1 Показания счётчика электроэнергии 1 марта составляли 48 006 кВт·ч, а 1 апреля — 48 146 кВт·ч. Сколько нужно заплатить за электроэнергию за март, если 1 кВт·ч электроэнергии стоит 6 рублей 15 копеек? Ответ дайте в рублях.

Ответ: _____.

ИЛИ

На автозаправке клиент отдал кассиру 2000 рублей и попросил залить полный бак бензина. Цена бензина 52 рубля за литр. Клиент получил 440 рублей сдачи. Сколько литров бензина было залито в бак?

Ответ: _____.

ИЛИ

В среднем за день во время конференции расходуется 90 пакетиков чая. Конференция длится 7 дней. В пачке чая 50 пакетиков. Какого наименьшего количества пачек чая хватит на все дни конференции?

Ответ: _____.

- 2 Товар на распродаже уценили на 35 %, при этом он стал стоить 1300 рублей. Сколько рублей стоил товар до распродажи?

Ответ: _____.

ИЛИ

Налог на доходы составляет 13 % от заработной платы. Заработная плата Ивана Кузьмича равна 41 000 рублей. Какую сумму он получит после уплаты налога на доходы? Ответ дайте в рублях.

Ответ: _____.

ИЛИ

Длины двух рек относятся как 5 : 6, при этом одна из них длиннее другой на 10 км. Найдите длину большей реки. Ответ дайте в километрах.

Ответ: _____.

- 3 Найдите корень уравнения $9^{x-12} = 27$.

Ответ: _____.

ИЛИ

Найдите корень уравнения $\log_{11}(-4x+13) = 2$.

Ответ: _____.

ИЛИ

Решите уравнение $x^2 + 8 = 6x$.

Если уравнение имеет больше одного корня, в ответе укажите меньший из них.

Ответ: _____.

- 4 Научная конференция продлится 4 дня. Всего запланировано 60 докладов: в первые два дня — по 12 докладов, остальные распределены поровну между третьим и четвёртым днями. На конференции планируется доклад профессора М. Порядок докладов определяется случайным образом. Какова вероятность того, что доклад профессора М. состоится в последний день конференции?

Ответ: _____.

ИЛИ

На чемпионате по прыжкам в воду выступают 20 спортсменов, среди них 5 спортсменов из России и 7 спортсменов из Китая. Порядок выступлений определяется жеребьёвкой. Найдите вероятность того, что шестым будет выступать спортсмен из Китая.

Ответ: _____.

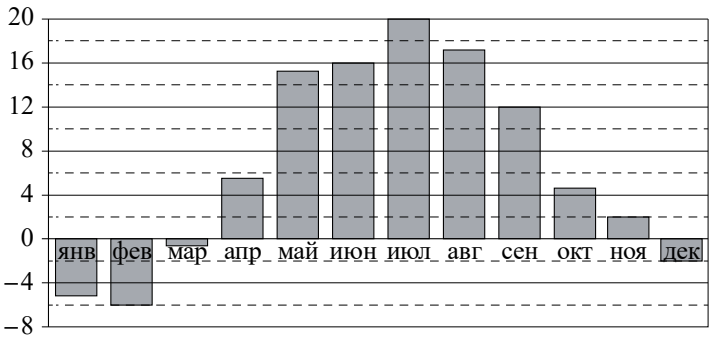
ИЛИ

В среднем из 100 садовых насосов, поступивших в продажу, 4 насоса подтекают. Найдите вероятность того, что один случайно выбранный для контроля насос **не подтекает**.

Ответ: _____.

5

На диаграмме показана среднемесячная температура воздуха в Минске за каждый месяц 2003 г. По горизонтали указываются месяцы, по вертикали — температура в градусах Цельсия.



Определите по диаграмме наибольшую среднемесячную температуру в период с сентября по декабрь 2003 г. Ответ дайте в градусах Цельсия.

Ответ: _____.

ИЛИ

В таблице представлены данные о стоимости некоторой модели смартфона в различных магазинах.

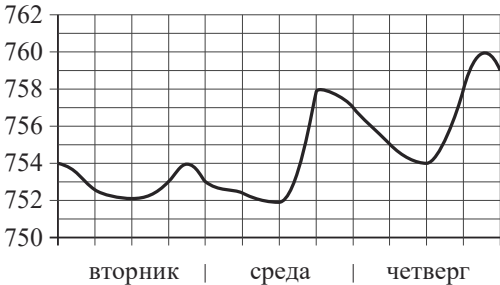
Магазин	Стоимость смартфона (руб.)
«ОК-Техника»	6733
«Скоростной»	7600
«Магия связи»	6559
«Про-фон»	7346
«Смартфон и Ко»	6599
«Прогресс-Э»	7548
«999 телефонов»	6959
«Макропоиск»	7049
«Вселенная телефонов»	6850

Найдите наименьшую стоимость смартфона среди представленных предложений. Ответ дайте в рублях.

Ответ: _____.

ИЛИ

На рисунке показано изменение атмосферного давления в течение трёх суток. По горизонтали указаны дни недели, по вертикали — значения атмосферного давления (в миллиметрах ртутного столба).



Определите по рисунку наибольшее значение атмосферного давления (в миллиметрах ртутного столба) во вторник.

Ответ: _____.

6

Каждому из четырёх неравенств в левом столбце соответствует одно из решений в правом столбце. Установите соответствие между неравенствами и их решениями.

НЕРАВЕНСТВА	РЕШЕНИЯ
А) $(x - 6)(x - 2) > 0$	1) $x < 3$
Б) $5^{-x+2} > 0,2$	2) $x < 2$ или $x > 6$
В) $\log_3(x - 3) < 2$	3) $3 < x < 12$
Г) $\frac{x - 3}{(x - 5)^2} > 0$	4) $3 < x < 5$ или $x > 5$

Запишите в приведённой в ответе таблице под каждой буквой соответствующий решению номер.

А	Б	В	Г

Ответ:

ИЛИ

На координатной прямой отмечены точки A, B, C и D .



Каждой точке соответствует одно из чисел в правом столбце. Установите соответствие между указанными точками и числами.

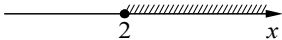
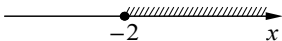

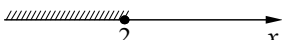
ТОЧКИ	ЧИСЛА
A	1) $\log_2 10$
B	2) $\frac{7}{3}$
C	3) $\sqrt{26}$
D	4) $\left(\frac{3}{5}\right)^{-1}$

В таблице под каждой буквой укажите соответствующий номер.

А	В	С	Д

ИЛИ

Каждому из четырёх неравенств в левом столбце соответствует одно из решений в правом столбце. Установите соответствие между неравенствами и их решениями.

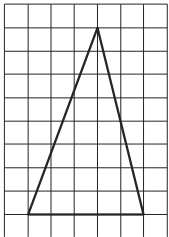
НЕРАВЕНСТВА	РЕШЕНИЯ
А) $2^x \geq 4$	1) 
Б) $0,5^x \geq 4$	2) 
В) $0,5^x \leq 4$	3) 
Г) $2^x \leq 4$	4) 

Запишите в приведённой в ответе таблице под каждой буквой соответствующий решению номер.

А	Б	В	Г

7

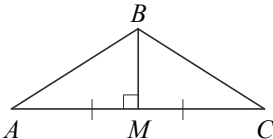
На клетчатой бумаге с размером клетки 1×1 изображён треугольник. Найдите его площадь.



Ответ: _____.

ИЛИ

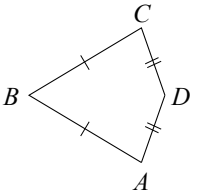
В треугольнике ABC медиана BM перпендикулярна стороне AC . Найдите длину стороны AB , если $BM = 12$, $AC = 32$.



Ответ: _____.

ИЛИ

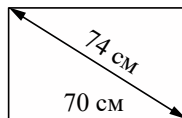
Известно, что в выпуклом четырёхугольнике $ABCD$ $AB = BC$, $AD = CD$, $\angle B = 56^\circ$, $\angle D = 176^\circ$. Найдите угол A . Ответ дайте в градусах.



Ответ: _____.

8

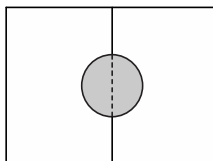
Диагональ прямоугольного экрана равна 74 см, а ширина экрана — 70 см. Найдите высоту экрана. Ответ дайте в сантиметрах.



Ответ: _____.

ИЛИ


Два садовода, имеющие прямоугольные участки размерами 25 м на 30 м с общей границей, договорились и сделали общий круглый пруд площадью 150 квадратных метров (см. чертёж), причём граница участков проходит точно через центр пруда. Какова площадь (в квадратных метрах) оставшейся части участка каждого садовода?



Ответ: _____.

ИЛИ

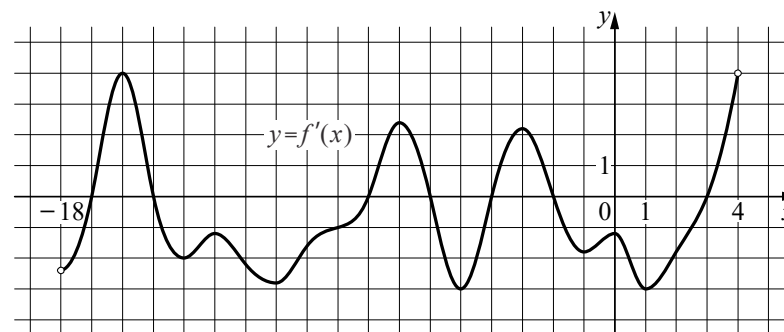
Какой угол (в градусах) образуют минутная и часовая стрелки в 16:00?



Ответ: _____.

9

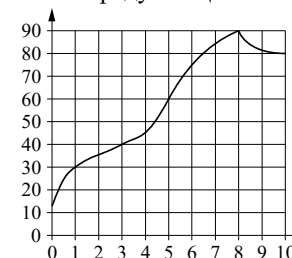
На рисунке изображён график $y = f'(x)$ — производной функции $f(x)$, определённой на интервале $(-18; 4)$. Найдите количество точек минимума функции $f(x)$, принадлежащих отрезку $[-16; 2]$.



Ответ: _____.

ИЛИ

На графике изображена зависимость температуры от времени в процессе разогрева двигателя легкового автомобиля. На горизонтальной оси отмечено время в минутах, прошедшее с момента запуска двигателя; на вертикальной оси — температура двигателя в градусах Цельсия.



Пользуясь графиком, поставьте в соответствие каждому интервалу времени характеристику процесса разогрева двигателя на этом интервале.

ИНТЕРВАЛЫ ВРЕМЕНИ

ХАРАКТЕРИСТИКИ

- | | |
|-------------|---|
| А) 0–1 мин | 1) Самый медленный рост температуры |
| Б) 1–3 мин | 2) Температура падала |
| В) 3–6 мин | 3) Температура находилась в пределах от 40 до 80 °C |
| Г) 8–10 мин | 4) Температура не превышала 30 °C |

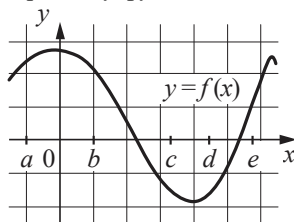
В таблице под каждой буквой укажите соответствующий номер.

А	Б	В	Г

Ответ:

ИЛИ

На рисунке изображён график функции $y = f(x)$. Числа a, b, c, d и e задают на оси Ox интервалы. Пользуясь графиком, поставьте в соответствие каждому интервалу характеристику функции или её производной.

**ИНТЕРВАЛЫ**

- А) $(a; b)$
 Б) $(b; c)$
 В) $(c; d)$
 Г) $(d; e)$

ХАРАКТЕРИСТИКИ

- 1) значение производной функции положительно в каждой точке интервала
 2) значение производной функции отрицательно в каждой точке интервала
 3) значение функции положительно в каждой точке интервала
 4) значение функции отрицательно в каждой точке интервала

В таблице под каждой буквой укажите соответствующий номер.

Ответ:

А	Б	В	Г

- 10** Найдите четырёхзначное число, большее 2000, но меньшее 2400, которое делится на 36 и сумма цифр которого равна 18. В ответе запишите какое-нибудь одно такое число.

Ответ: _____.

ИЛИ

На шести карточках написаны цифры 2, 3, 5, 6, 7, 7 (по одной цифре на каждой карточке). В выражении

$$\square + \square \square + \square \square \square$$

вместо каждого квадратика положили карточку из данного набора. Оказалось, что полученная сумма делится на 10, но не делится на 20. В ответе укажите какую-нибудь одну такую сумму.

Ответ: _____.

ИЛИ

Вычеркните в числе 75157613 три цифры так, чтобы получившееся число делилось на 12. В ответе укажите какое-нибудь одно получившееся число.

Ответ: _____.

- 11** Найдите $\cos \alpha$, если $\sin \alpha = 0,8$ и $90^\circ < \alpha < 180^\circ$.

Ответ: _____.

ИЛИ

Найдите значение выражения $(3\sqrt{2} - \sqrt{10})(3\sqrt{2} + \sqrt{10})$.

Ответ: _____.

ИЛИ

Найдите значение выражения $\log_2 12 - \log_2 7$.

Ответ: _____.

12

В классе учится 20 человек, из них 13 человек посещают кружок по истории, а 10 — кружок по математике. Выберите утверждения, которые верны при указанных условиях.

- 1) Каждый ученик этого класса посещает оба кружка.
- 2) Найдутся хотя бы двое из этого класса, которые посещают оба кружка.
- 3) Если ученик из этого класса ходит на кружок по истории, то он обязательно ходит на кружок по математике.
- 4) Не найдётся 11 человек из этого класса, посещающих оба кружка.

В ответе запишите номера выбранных утверждений без пробелов, запятых и других дополнительных символов.

Ответ: _____.

ИЛИ

В посёлке городского типа всего 12 жилых домов. Высота каждого дома меньше 30 метров, но не меньше 9 метров. Выберите все утверждения, которые верны при указанных условиях.

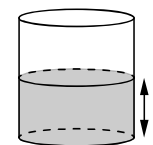
- 1) В посёлке есть жилой дом высотой 30 метров.
- 2) Разница в высоте любых двух жилых домов посёлка больше 3 метров.
- 3) В посёлке нет жилого дома высотой 8 метров.
- 4) Высота любого жилого дома в посёлке не меньше 7 метров.

В ответе запишите номера выбранных утверждений без пробелов, запятых и других дополнительных символов.

Ответ: _____.

13

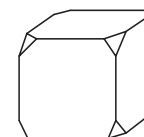
Вода в сосуде цилиндрической формы находится на уровне $h=80$ см. На каком уровне окажется вода, если её перелить в другой цилиндрический сосуд, у которого радиус основания в 4 раза больше, чем у данного? Ответ дайте в сантиметрах.



Ответ: _____.

ИЛИ

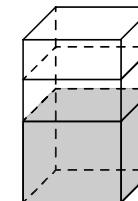
От деревянного кубика отпилили все его вершины (см. рисунок). Сколько граней у получившегося многогранника (невидимые рёбра на рисунке не изображены)?



Ответ: _____.

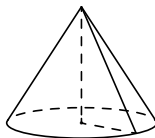
ИЛИ

В бак, имеющий форму правильной четырёхугольной призмы со стороной основания 40 см, налита жидкость. Чтобы измерить объём детали сложной формы, её полностью погружают в эту жидкость. Найдите объём детали, если после её погружения уровень жидкости в баке поднялся на 2 см. Ответ дайте в кубических сантиметрах.



Ответ: _____.

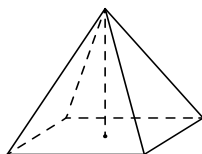
- 14 Объём конуса равен 84π , а его высота равна 7. Найдите радиус основания конуса.



Ответ: _____.

ИЛИ

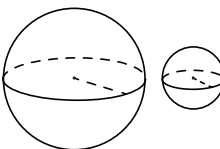
Найдите объём правильной четырёхугольной пирамиды, сторона основания которой равна 4, а боковое ребро равно $\sqrt{17}$.



Ответ: _____.

ИЛИ

Даны два шара с радиусами 9 и 3. Во сколько раз площадь поверхности большего шара больше площади поверхности меньшего?



Ответ: _____.

Не забудьте перенести все ответы в БЛАНК ОТВЕТОВ в соответствии с инструкцией по выполнению работы.

Система оценивания экзаменационной работы по математике
(100-е номера вариантов)

Каждое из заданий 1–14 считается выполненным верно, если экзаменуемый дал верный ответ в виде целого числа, конечной десятичной дроби или последовательности цифр. Правильный ответ на каждое из заданий 1–14 оценивается 1 баллом.

При записи ответов на задание 12 цифры могут быть записаны в любом порядке.

Номер задания	Правильный ответ		
	Пример 1	Пример 2	Пример 3
1	861	30	13
2	2000	35670	60
3	13,5	–27	2
4	0,3	0,35	0,96
5	12	6559	754
6	2134	4213	1324
7	20	20	64
8	24	675	120
9	2	4132	3241
10	2088 <или> 2196 <или> 2268 <или> 2376	390 <или> 570 <или> 750	51576 <или> 75156 <или> 75576
11	–0,6	8	4
12	24	34	
13	5	14	3200
14	6	16	9

Образец экзаменационного материала

ГВЭ-11 (письменная форма) 2026 года
по МАТЕМАТИКЕ
(200-е номера вариантов)

Инструкция по выполнению работы

Экзаменационная работа включает в себя 14 заданий. На выполнение работы по математике отводится 3 часа 55 минут (235 минут).

Ответы к заданиям 1–14 запишите в поля ответов в работе, а затем перенесите в бланк ответов. Для этого в бланке ответов запишите номера всех заданий в столбец следующим образом:

- 1)
2)
3)
...
13)
14)

Ответы к заданиям 1–14 запишите в бланк ответов справа от номеров соответствующих заданий. В случае записи неверного ответа зачеркните его и запишите рядом новый.

При выполнении работы разрешается использовать линейку.

Бланк ответов заполняется яркими чёрными чернилами. Допускается использование гелевой или капиллярной ручки.

При выполнении заданий можно пользоваться черновиком. Записи в черновике не учитываются при оценивании работы.

Баллы, полученные Вами за выполненные задания, суммируются. Постарайтесь выполнить как можно больше заданий и набрать наибольшее количество баллов.

Желаем успеха!

Справочные материалы

Алгебра

Таблица квадратов целых чисел от 0 до 99

Десятки	Единицы									
	0	1	2	3	4	5	6	7	8	9
0	0	1	4	9	16	25	36	49	64	81
1	100	121	144	169	196	225	256	289	324	361
2	400	441	484	529	576	625	676	729	784	841
3	900	961	1024	1089	1156	1225	1296	1369	1444	1521
4	1600	1681	1764	1849	1936	2025	2116	2209	2304	2401
5	2500	2601	2704	2809	2916	3025	3136	3249	3364	3481
6	3600	3721	3844	3969	4096	4225	4356	4489	4624	4761
7	4900	5041	5184	5329	5476	5625	5776	5929	6084	6241
8	6400	6561	6724	6889	7056	7225	7396	7569	7744	7921
9	8100	8281	8464	8649	8836	9025	9216	9409	9604	9801

Свойства арифметического квадратного корня

$$\sqrt{ab} = \sqrt{a} \cdot \sqrt{b} \text{ при } a \geq 0, b \geq 0 \quad \sqrt{\frac{a}{b}} = \frac{\sqrt{a}}{\sqrt{b}} \text{ при } a \geq 0, b > 0$$

Корни квадратного уравнения $ax^2 + bx + c = 0$, $a \neq 0$

$$x_1 = \frac{-b - \sqrt{b^2 - 4ac}}{2a}, \quad x_2 = \frac{-b + \sqrt{b^2 - 4ac}}{2a} \text{ при } b^2 - 4ac > 0$$

$$x = -\frac{b}{2a} \text{ при } b^2 - 4ac = 0$$

Формулы сокращённого умножения

$$(a + b)^2 = a^2 + 2ab + b^2$$

$$(a - b)^2 = a^2 - 2ab + b^2$$

$$a^2 - b^2 = (a + b)(a - b)$$

Степень и логарифм

Свойства степени
при $a > 0, b > 0$

$$a^{-n} = \frac{1}{a^n}$$

$$a^n \cdot a^m = a^{n+m}$$

$$\frac{a^n}{a^m} = a^{n-m}$$

$$(a^n)^m = a^{nm}$$

$$(ab)^n = a^n \cdot b^n$$

$$\left(\frac{a}{b}\right)^n = \frac{a^n}{b^n}$$

Свойства логарифма
при $a > 0, a \neq 1, b > 0, x > 0, y > 0$

$$a^{\log_a b} = b$$

$$\log_a a = 1$$

$$\log_a 1 = 0$$

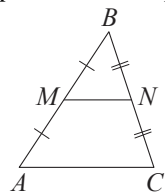
$$\log_a (xy) = \log_a x + \log_a y$$

$$\log_a \left(\frac{x}{y}\right) = \log_a x - \log_a y$$

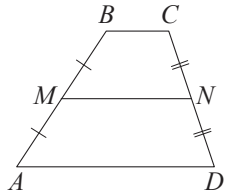
$$\log_a b^k = k \log_a b$$

Геометрия

Средняя линия треугольника и трапеции

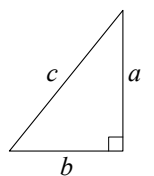


MN — ср. лин.
 $MN \parallel AC$
 $MN = \frac{AC}{2}$



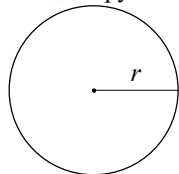
$BC \parallel AD$
 MN — ср. лин.
 $MN \parallel AD$
 $MN = \frac{BC + AD}{2}$

Теорема Пифагора



$$a^2 + b^2 = c^2$$

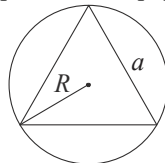
Длина окружности
Площадь круга



$$C = 2\pi r$$

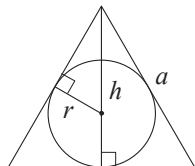
$$S = \pi r^2$$

Правильный треугольник



$$R = \frac{a\sqrt{3}}{3}$$

$$S = \frac{a^2\sqrt{3}}{4}$$

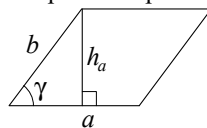


$$r = \frac{a\sqrt{3}}{6}$$

$$h = \frac{a\sqrt{3}}{2}$$

Площади фигур

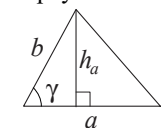
Параллелограмм



$$S = ah_a$$

$$S = ab \sin \gamma$$

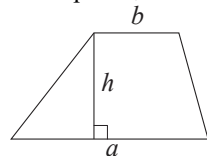
Треугольник



$$S = \frac{1}{2} ah_a$$

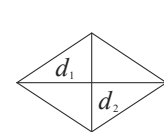
$$S = \frac{1}{2} ab \sin \gamma$$

Трапеция



$$S = \frac{a+b}{2} \cdot h$$

Ромб

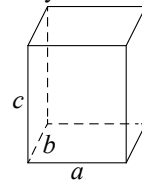


d_1, d_2 — диагонали

$$S = \frac{1}{2} d_1 d_2$$

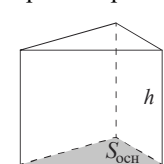
Площади поверхностей и объёмы тел

Прямоугольный параллелепипед



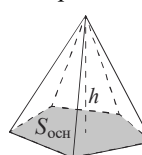
$$V = abc$$

Прямая призма



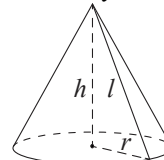
$$V = S_{\text{осн}} h$$

Пирамида



$$V = \frac{1}{3} S_{\text{осн}} h$$

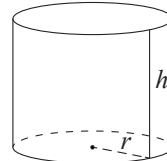
Конус



$$V = \frac{1}{3} \pi r^2 h$$

$$S_{\text{бок}} = \pi r l$$

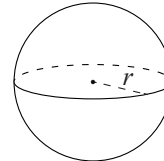
Цилиндр



$$V = \pi r^2 h$$

$$S_{\text{бок}} = 2\pi r h$$

Шар

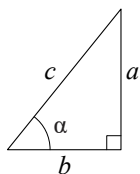


$$V = \frac{4}{3} \pi r^3$$

$$S_{\text{пов}} = 4\pi r^2$$

Тригонометрические функции

Прямоугольный треугольник

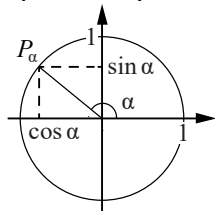


$$\sin \alpha = \frac{a}{c}$$

$$\cos \alpha = \frac{b}{c}$$

$$\operatorname{tg} \alpha = \frac{a}{b}$$

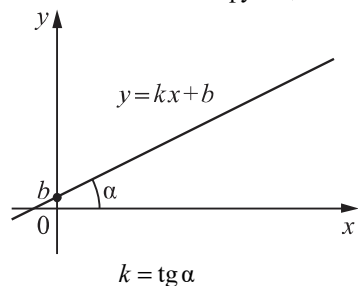
Тригонометрическая окружность

Основное тригонометрическое тождество: $\sin^2 \alpha + \cos^2 \alpha = 1$ **Некоторые значения тригонометрических функций**

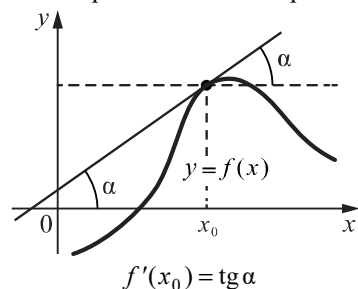
α	радианы	0	$\frac{\pi}{6}$	$\frac{\pi}{4}$	$\frac{\pi}{3}$	$\frac{\pi}{2}$	π	$\frac{3\pi}{2}$	2π
	градусы	0°	30°	45°	60°	90°	180°	270°	360°
$\sin \alpha$		0	$\frac{1}{2}$	$\frac{\sqrt{2}}{2}$	$\frac{\sqrt{3}}{2}$	1	0	-1	0
$\cos \alpha$		1	$\frac{\sqrt{3}}{2}$	$\frac{\sqrt{2}}{2}$	$\frac{1}{2}$	0	-1	0	1
$\operatorname{tg} \alpha$		0	$\frac{\sqrt{3}}{3}$	1	$\sqrt{3}$	—	0	—	0

Функции

Линейная функция



Геометрический смысл производной



Ответами к заданиям 1–14 являются целое число, конечная десятичная дробь или последовательность цифр. Единицы измерений писать не нужно.

1

Каждый день во время конференции расходуется 80 пакетиков чая. Конференция длится 8 дней. В пачке чая 100 пакетиков. Какого наименьшего количества пачек чая хватит на все дни конференции?

Ответ: _____.

ИЛИ

В пачке 250 листов бумаги формата А4. За неделю в офисе расходуется 1100 листов. Какого наименьшего количества пачек бумаги хватит на 4 недели?

Ответ: _____.

2

Товар на распродаже уценили на 35 %, при этом он стал стоить 1300 рублей. Сколько рублей стоил товар до распродажи?

Ответ: _____.

ИЛИ

В технических вузах собираются учиться 14 выпускников школы. Они составляют 28 % от числа всех выпускников. Сколько в школе выпускников?

Ответ: _____.

3

Найдите корень уравнения $\log_3(2x+3) = 2$.

Ответ: _____.

ИЛИ

Найдите корень уравнения $(x-2)^3 = 125$.

Ответ: _____.

4

На чемпионате по прыжкам в воду выступают 25 спортсменов, среди них 8 спортсменов из России и 9 спортсменов из Китая. Порядок выступлений определяется жеребьёвкой. Найдите вероятность того, что вторым будет выступать спортсмен из Китая.

Ответ: _____.

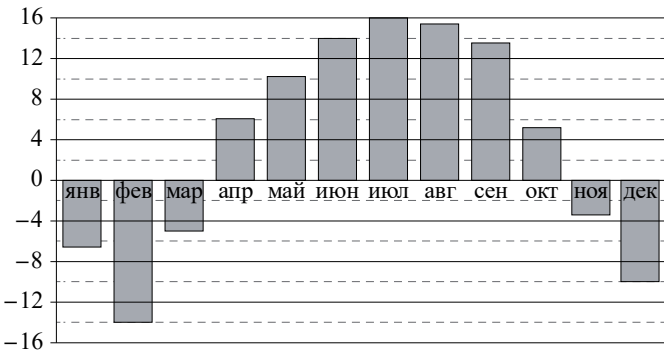
ИЛИ

В сборнике билетов по физике 25 билетов, в семи из них встречается вопрос по теме «Оптика». Найдите вероятность того, что в случайно выбранном на экзамене билете школьнику достанется вопрос по теме «Оптика».

Ответ: _____.

5

На диаграмме показана среднемесячная температура воздуха в Нижнем Новгороде за каждый месяц 1994 г. По горизонтали указываются месяцы, по вертикали — температура в градусах Цельсия. Определите по приведённой диаграмме, сколько было месяцев с положительной среднемесячной температурой.



Ответ: _____.

ИЛИ

Результаты игры КВН представлены в таблице.

Команда	Баллы за конкурс «Приветствие»	Баллы за конкурс «СТЭМ»	Баллы за музыкальный конкурс
«АТОМ»	29	21	23
«Шумы»	28	22	26
«Топчан»	25	21	26

Для каждой команды баллы за все конкурсы суммируются. Победившей считается команда, набравшая в сумме наибольшее количество баллов. Какое место заняла команда «Топчан»?

Ответ: _____.

6

Каждому из четырёх чисел в левом столбце соответствует отрезок, которому оно принадлежит. Установите соответствие между числами и отрезками из правого столбца.

ЧИСЛА	ОТРЕЗКИ
А) $\log_5 20$	1) $[0; 1]$
Б) $\frac{29}{13}$	2) $[1; 2]$
В) $\sqrt{10}$	3) $[2; 3]$
Г) 2^{-3}	4) $[3; 4]$

В таблице под каждой буквой укажите соответствующий отрезку номер.

А	Б	В	Г

ИЛИ

Каждому из четырёх неравенств в левом столбце соответствует одно из решений в правом столбце. Установите соответствие между неравенствами и их решениями.

НЕРАВЕНСТВА

РЕШЕНИЯ

А) $\frac{(x-5)^2}{x-3} < 0$

1) $x > 2$

Б) $2^x > 4$

2) $x < 2$ или $x > 5$

В) $\log_5 x < 1$

3) $0 < x < 5$

Г) $(x-2)(x-5) > 0$

4) $x < 3$

В таблице под каждой буквой укажите соответствующий номер.

А	Б	В	Г

Ответ:

- 7** Стороны параллелограмма равны 12 и 15. Высота, опущенная на первую из этих сторон, равна 10. Найдите высоту, опущенную на вторую сторону параллелограмма.

Ответ: _____.

ИЛИ

Сумма двух углов ромба равна 120° , а его меньшая диагональ равна 8. Найдите периметр ромба.

Ответ: _____.

8

Участок земли для строительства санатория имеет форму прямоугольника, стороны которого равны 900 м и 400 м. Одна из больших сторон участка идёт вдоль моря, а три остальные стороны нужно отгородить забором. Найдите длину этого забора. Ответ дайте в метрах.

Ответ: _____.

ИЛИ

Дачный участок имеет форму прямоугольника, стороны которого равны 30 м и 20 м. Хозяин планирует построить на участке дом, в основании которого квадрат со стороной 6 м. Найдите площадь части участка, не занятой домом. Ответ дайте в квадратных метрах.

Ответ: _____.

9

Прямая $y = 2x - 7$ является касательной к графику функции $y = x^2 - 6x + c$. Найдите значение коэффициента c .

Ответ: _____.

ИЛИ

Найдите точку максимума функции $y = x^3 - 12x^2 + 36x - 20$.

Ответ: _____.

10

Найдите натуральное число, большее 1340, но меньшее 1640, которое делится на каждую свою цифру, при этом все цифры его различны и не равны нулю. В ответе запишите какое-нибудь одно такое число.

Ответ: _____.

ИЛИ

Вычеркните в числе 75157613 три цифры так, чтобы получившееся число делилось на 12. В ответе укажите какое-нибудь одно получившееся число.

Ответ: _____.

11 Найдите значение выражения $\frac{17}{2} \cdot \frac{2}{7} - \frac{13}{14}$.

Ответ: _____.

ИЛИ

Найдите значение выражения $\log_2 112 - \log_2 7$.

Ответ: _____.

12 В классе учится 20 человек, из них 13 человек посещают кружок по истории, а 10 — кружок по математике. Выберите утверждения, которые верны при указанных условиях.

- 1) Каждый ученик этого класса посещает оба кружка.
- 2) Найдутся хотя бы двое из этого класса, которые посещают оба кружка.
- 3) Если ученик из этого класса ходит на кружок по истории, то он обязательно ходит на кружок по математике.
- 4) Не найдётся 11 человек из этого класса, посещающих оба кружка.

В ответе запишите номера выбранных утверждений без пробелов, запятых и других дополнительных символов.

Ответ: _____.

ИЛИ

Школа приобрела стол, доску, магнитофон и принтер. Известно, что принтер дороже магнитофона, а доска дешевле магнитофона и дешевле стола. Выберите все утверждения, которые верны при указанных условиях.

- 1) Магнитофон дешевле доски.
- 2) Принтер дороже доски.
- 3) Доска — самая дешёвая из покупок.
- 4) Принтер и доска стоят одинаково.

В ответе запишите номера выбранных утверждений без пробелов, запятых и других дополнительных символов.

Ответ: _____.

13 Вода в сосуде цилиндрической формы находится на уровне 80 см. На каком уровне окажется вода, если её перелить в другой цилиндрический сосуд, у которого радиус основания в 4 раза больше, чем у данного? Ответ дайте в сантиметрах.

Ответ: _____.

ИЛИ

В бак, имеющий форму прямоугольного параллелепипеда с площадью основания 80 квадратных сантиметров, налита вода. Чтобы измерить объём детали сложной формы, её полностью погружают в эту воду. Найдите объём детали, если после её погружения уровень воды в баке поднялся на 10 см. Ответ дайте в кубических сантиметрах.

Ответ: _____.

14 Даны два шара с радиусами 9 и 3. Во сколько раз площадь поверхности большего шара больше площади поверхности меньшего?

Ответ: _____.

ИЛИ

Даны два шара с радиусами 2 и 1. Во сколько раз объём большего шара больше объёма меньшего?

Ответ: _____.

Не забудьте перенести все ответы в БЛАНК ОТВЕТОВ в соответствии с инструкцией по выполнению работы.

Система оценивания экзаменационной работы по математике
(200-е номера вариантов)

Каждое из заданий 1–14 считается выполненным верно, если экзаменуемый дал верный ответ в виде целого числа, конечной десятичной дроби или последовательности цифр. Ответ на каждое верно выполненное задание оценивается 1 баллом.

При записи ответов на задание 12 цифры могут быть записаны в любом порядке.

Номер задания	Правильный ответ	
	Пример 1	Пример 2
1	7	18
2	2000	50
3	3	7
4	0,36	0,28
5	7	3
6	2341	4132
7	8	32
8	1700	564
9	9	2
10	1362 <или> 1368 <или> 1395 <или> 1632	51576 <или> 75156 <или> 75576
11	1,5	4
12	24	23
13	5	800
14	2	8